

 Trace avec précision et colorie :

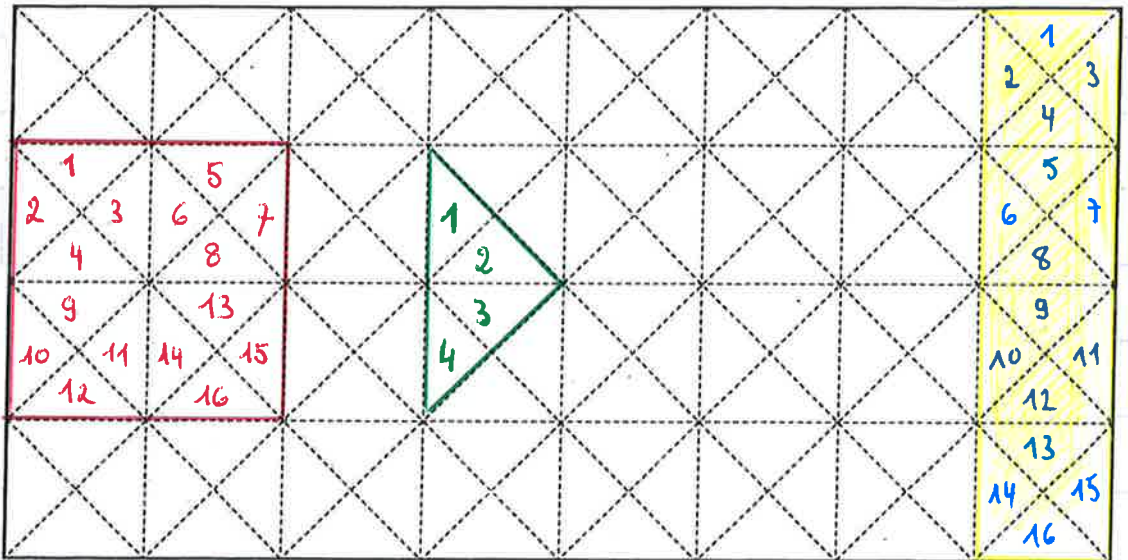
- un **triangle** composé de 4 petits triangles en vert,
- un **carré** composé de 16 petits triangles en bleu,
- un **rectangle** composé de 16 petits triangles en jaune.



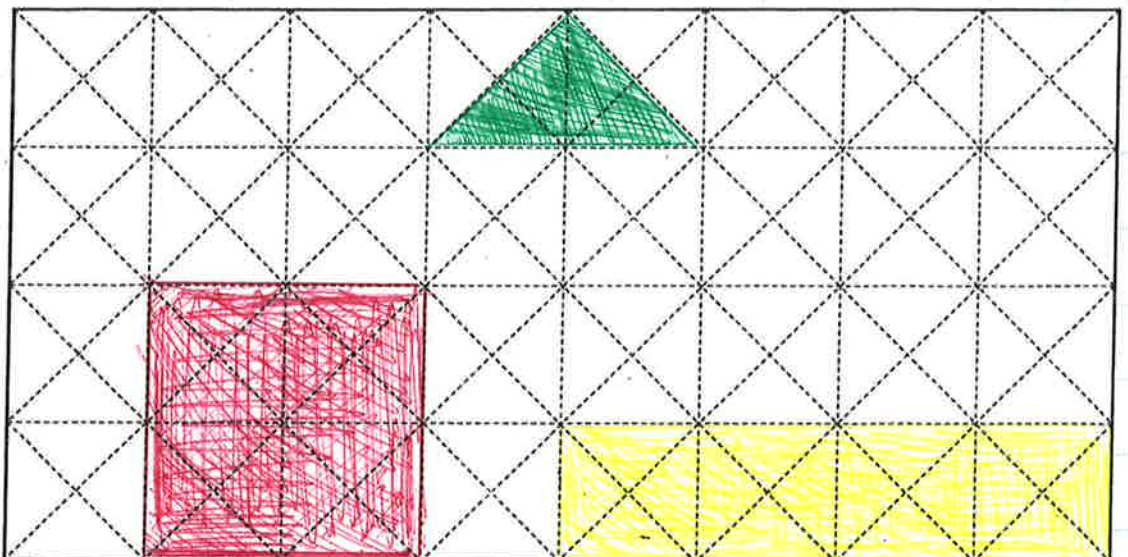
Les formes ne peuvent pas se toucher.

Il y a plusieurs réponses qui sont possibles.
En voici 3 exemples :

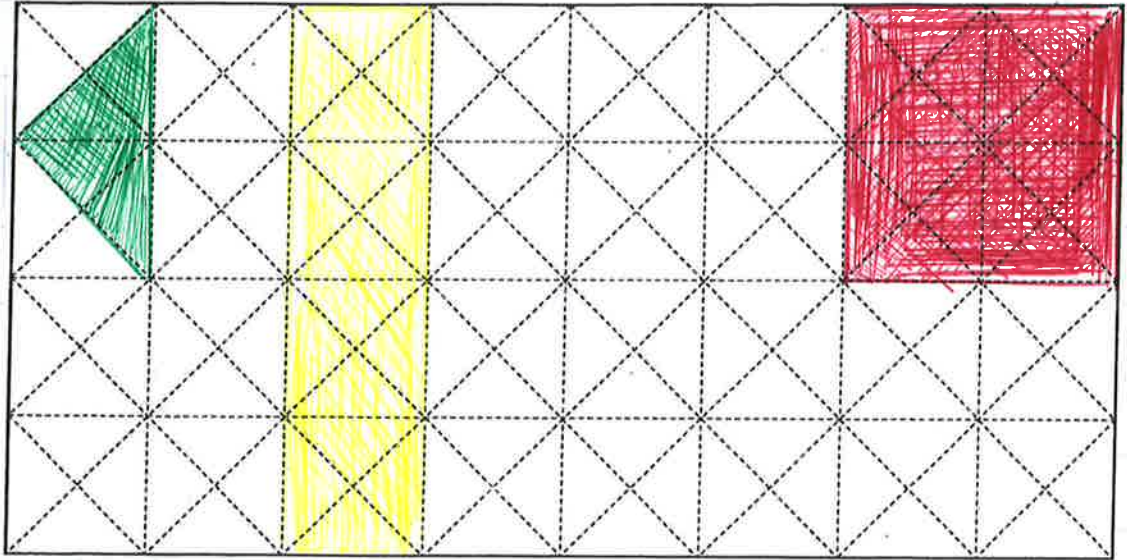
1



2



3



D'autres réponses sont encore possibles.


MATHÉMATIQUES – Je reconnais la gauche, je reconnais la droite

Je m'évalue
fiche 1


Gauche ou droite ?



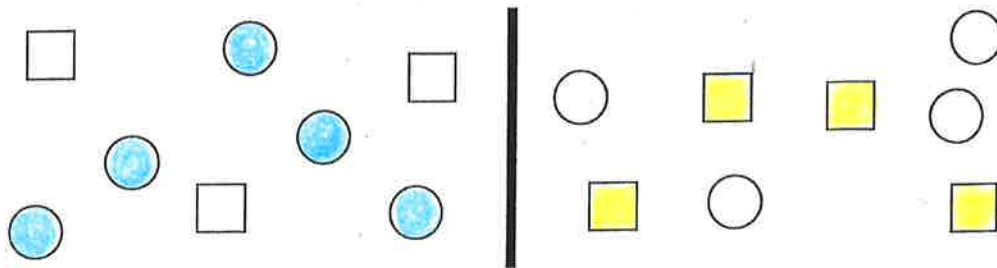
Colorie les poissons qui regardent vers la gauche.



Colorie uniquement les papillons que tu vois **à droite** de la fleur.



Colorie en jaune tous les carrés que tu vois **à droite** du trait et en bleu tous les disques que tu vois **à gauche** du trait.




à gauche

à droite




Colorie et complète les calculs.

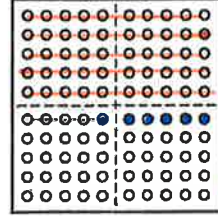
le corrigé




$27 + \dots 3 \dots = 30$




$31 + \dots 9 \dots = 40$



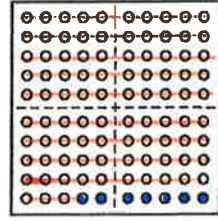
$54 + \dots 6 \dots = 60$



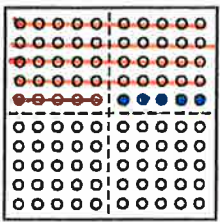
$68 + \dots 2 \dots = 70$




$79 + \dots 1 \dots = 80$




$93 + \dots 7 \dots = 100$




$45 + \dots 5 \dots = 50$



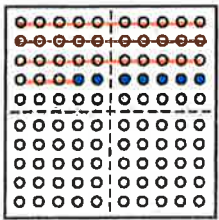
$82 + \dots 8 \dots = 90$



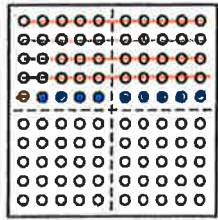
$97 + \dots 3 \dots = 100$




$13 + \dots 7 \dots = 20$




$33 + \dots 7 \dots = 40$




$41 + \dots 9 \dots = 50$




$66 + \dots 4 \dots = 70$




$95 + \dots 5 \dots = 100$



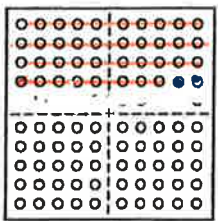
$99 + \dots 1 \dots = 100$



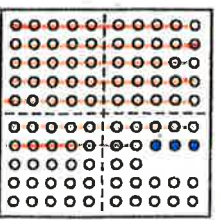
$83 + \dots 7 \dots = 90$




$56 + \dots 4 \dots = 60$



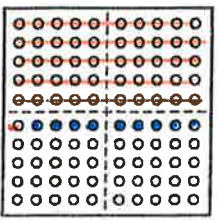
$38 + \dots 2 \dots = 40$



$77 + \dots 3 \dots = 80$




$73 + \dots 7 \dots = 80$




$51 + \dots 9 \dots = 60$

2) Grâce au texte en-dessous du schéma, complète chaque rectangle avec le nom des articulations.



Nous sommes capables de nous tenir debout grâce à nos os. Les os sont reliés entre eux grâce aux articulations. Ils sont en mouvement grâce aux muscles. Les articulations les plus connues : sont la cheville, le genou, la hanche, le coude, l'épaule, le poignet et le cou.

Il y a 7 différences entre ces deux images, cherche bien.



Bon, Ce coup-là, On rentre.

Bon, Ce coup-ci, On rentre.

Le corrigé

Avant le grand départ chez Papi ATOLE et Mammie ANNETTE, papa prépare un sandwich à ARIOL pour le voyage. Mais ARIOL se méfie ! Tu veux savoir de quoi ? Remplis la grille !

L	i	v	r	e	F	o	u	r	c	h	e	t	t	e
		c	o	u	t	e	a	u						
		c	a	m	e	n	b	e	r	t				
		c	a	m	e	n	a	p	p	e				
F	r	i	g	o										
T	a	b	l	e										

T'as faim ARIOL ?

Euh, oui... Mais qu'est-ce que Tu prépares ? Ca sent pas bon.

